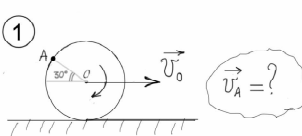
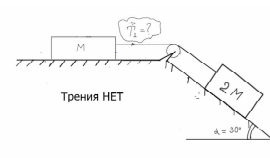

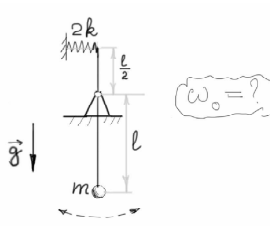


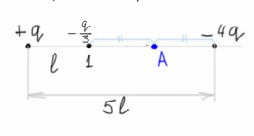
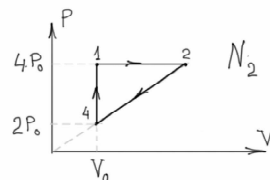
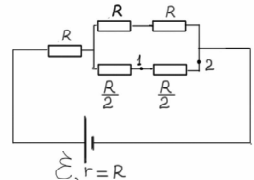


Экзамен по физике (Б) Вариант №##

<p>1</p>  <p style="text-align: right;">$\vec{v}_A = ?$</p>	<p>2</p>  <p style="text-align: center;">Трения НЕТ</p> <p style="text-align: right;">$v_1 = ?$</p>	<p>3</p> <p>Пуля застревает в брусе. Найти путь l до остановки бруса.</p>  <p style="text-align: center;">Трения НЕТ</p>
<p>4</p>  <p style="text-align: right;">$\omega_0 = ?$</p>	<p>5</p> <p>Построить цикл 1-2-3-4-1 в (P,T) координатах</p> 	<p>6</p> <p>Найти работу A в цикле и тепло Q_{2-3} полученное или отданное на участке 2-3</p>  <p style="text-align: center;">1 моль Ar</p>
<p>7</p> <p>Найти силу действующую на 1-й заряд и напряженность электрического поля E в точке A</p> 	<p>8</p> <p>Найти К.П.Д. цикла η</p> 	<p>9</p> <p>Найти ток I на участке 1-2</p>  <p style="text-align: center;">$\sum \mathcal{E}, r=R$</p>